



وزارة التعليم
Ministry of Education

محطات ملهمة

اختارتها لكم ثانوية سارة ال الشيخ

قدرات ٢

الصف

المعلمة :

رجل معه ١٢٠ ورقة نقدية من فئة ١٠.٥ إذا كان فئة ٥.١٠ أمثال فئة ٥ ريال فكيف المبلغ الكلي ؟

١٠٥٠	ب	أ	١١٢٠
١٠٠٠	د	ج	١١٠٠
● الحل :			

$$= ٤^٣ * ٢^٤$$

١٤١٦	ب	أ	٩١٠
١٢٩٦	د	ج	١٦٠١
● الحل :			

إذا كانت نركه الميئة تقسم كالنالي ثمن لزوجنه والذكر مثلي الانثى ونوفى رجل ونرك ٨٨٠٠٠ فكيف نصيب البنث إذا كان لهيه زوجه و٩ اولاد و٤ بنات ؟

٣٥٠٠	ب	أ	٣٠٠٠
٧٥٠٠٠	د	ج	٧٠٠٠
● الحل :			

حل الصفحة السابقة

رجل معه ١٢٠ ورقة نقدية من فئة ١٠.٥ إذا كان فئة ٥.١٠ أمثال فئة ٥ ريال فكيف المبلغ الكلي ؟

١٠٠	ب	أ	١١٢٠
١٠٠٠	د	ج	١١٠٠

الحل : ج

$$= 4^3 * 2^4$$

١٤١٦	ب	أ	٩١٠
١٢٩٦	د	ج	١٦٠١

الحل : د

إذا كانت نركه الميئة تقسم كالنالي ثمن لزوجه والذكر مثلي الانثى ونوفى رجل ونرك ٨٨٠٠٠ فكيف نصيب البنث إذا كان لديه زوجه و٩ اولاد و٤ بنات ؟

٣٥٠٠	ب	أ	٣٠٠٠
٧٥٠٠	د	ج	٧٠٠٠

الحل : ب

باقي قسمه ٢٩ على ٣ =

٥	أ	ب	٤
٣	ج	د	٢
● الحل			

سلك معدني طوله ٤٠ سم صنع منه مستطيل مساحته = ٩٩ اوجد طول المستطيل ؟

٨	أ	ب	١١
١٤	ج	د	١٥
● الحل			

في إحدى المزارع بقر ودجاج وعدد الأبقار ربع عدد الدجاج وكان إجمالي عدد أرجل البقر والدجاج ٤٨ احسب عدد الأبقار في المزرعة

١٦	أ	ب	٤
٨	ج	د	١٨
● الحل:			

حل الصفحة السابقة

باقي قسمه ٢٩ على ٣ =

٤	ب	أ	٥
٢	د	ج	٣
الحل : د			

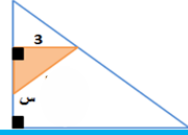
سلك معدني طوله ٤٠ سم صنع منه مستطيل مساحته = ٩٩ اوجد طول المستطيل ؟

١١	ب	أ	٨
١٥	د	ج	١٤
الحل : ب			

في إحدى المزارع بقرة ودجاج وعدد الأبقار ربع عدد الدجاج وكان إجمالي عدد أرجل البقر والدجاج ٤٨ احسب عدد الأبقار في المزرعة

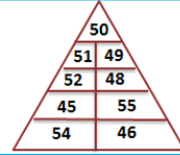
٤	ب	أ	١٦
١٨	د	ج	٨
الحل : ب			

إذا كانت مساحة المظلل = ٤.٥ ، فأوجد قيمه س ؟



١٣٣	ب	أ	١٣٥
١٨٠	د	ج	٥٦
● الحل			

أوجد مجموع الأعداد في الشكل ؟

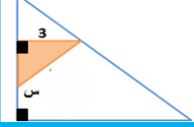


٤٥٠	ب	أ	٣٣٢
٣٣٠٠	د	ج	٢٠٩
● الحل			

عمل سعيد ل ٦ إياج ، ويدتاج العمل ل ١٨٢ ساعه لينج ، فكج يدتاج لاكمال عمله ؟

يومين	ب	أ	يوج ونصف
٣ إياج	د	ج	يوج
● الحل			

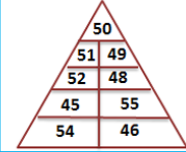
حل الصفحة السابقة



إذا كانت مساحه المثلث = ٤.٥ ، فأوجد قيمه س ؟

١٣٣	ب	أ	١٣٥
١٨٠	د	ج	٥٦

الحل : ا



أوجد مجموع الاعداد في الشكل ؟

٤٥٠	ب	أ	٣٣٢
٣٣٠٠	د	ج	٢٠٩

الحل : ب

عمل سعيد ل ٦ ايام ، ويحتاج العمل ل ١٨٢ ساعه لينه ، فكم يحتاج لاكمال عمله ؟

يومين	ب	أ	يوج ونصف
٣ ايام	د	ج	يوج

الحل : ا

حل الصفحة السابقة



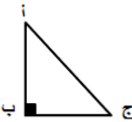
أوجد مجموع النساء و الرجال

.....

٦١	ب	أ	٦٣
٥٠	د	ج	٥٧
الحل :			

أوجد مقدار الزاوية التي تمثل النساء ؟

٤٥	ب	أ	٩٠
٦٠	د	ج	١٠٠
الحل :			



إذا كانت \angle تمثل خمس \angle امثال \angle ، فما قيمه \angle بالدرجات ؟

٢٠	ب	أ	١٥
٣٥	د	ج	٣٠
الحل :			



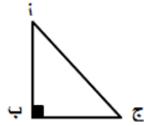
أوجد مجموع النساء و الرجال

.....

٦١	ب	أ	٦٣
٥٠	د	ج	٥٧
الحل : ج			

أوجد مقدار الزاوية التي تمثل النساء ؟

٤٥	ب	أ	٩٠
٦٠	د	ج	١٠٠
الحل : ب			



إذا كانت ا تمثل خمس امثال ج ، فما قيمه ج بالدرجات ؟

٢٠	ب	أ	١٥
٣٥	د	ج	٣٠
الحل : ا			

إذا كنا نستطيع الاختيار من بين ٥ اصناف من اللحم و ٦ اصناف من السلطة و ٤ اصناف من الحلو فكيف طبق مكون من لحم و سلطة و حلو نستطيع ان نصنع ؟

٩٧	أ	ب	١٢٠
٥٤	ج	د	١٥٠
● الحل			

إذا كانت الزاوية للحاسب ١٢٠ في دائرة وكان عدد الطلاب ٤٥٠ فما نسبة طلاب الحاسب ؟

٪٤٢	أ	ب	٪٣٣
٪٢٥	ج	د	٪٣٧
● الحل			

سلك معدني طوله ٤٠ سم صنع منه مستطيل مساحته = ٩٩ اوجد طول المستطيل ؟

٨	أ	ب	١٤
١٥	ج	د	١١
● الحل			

إذا كنا نستطيع الاختيار من بين ٥ اصناف من اللحم و ٦ اصناف من السلطة و ٤ اصناف من الحلويات فكيف طبق مكون من لحم و سلطة و حلو نستطيع ان نصنع ؟

٩٧	أ	ب	١٢٠
٥٤	ج	د	١٥٠
الحل : ب			

إذا كانت الزاوية للحاسب ١٢٠ في دائرة وكان عدد الطلاب ٤٥٠ فما نسبة طلاب الحاسب ؟

%٤٢	أ	ب	%٣٣
%٢٥	ج	د	%٣٧
الحل : ب			

سلك معدني طوله ٤٠ سم صنع منه مستطيل مساحته = ٩٩ اوجد طول المستطيل ؟

٨	أ	ب	١٤
١٥	ج	د	١١
الحل : د			